

No. 2 九州地方(都道府県名)	年 組
	名前

/16問

次の地図を見て、㉠～㉡の県名と県庁所在地名をそれぞれ書きましょう。

地図



	県名	県庁所在地名
㉠	①	②
㉡	③	④
㉢	⑤	⑥
㉣	⑦	⑧
㉤	⑨	⑩
㉥	⑪	⑫
㉦	⑬	⑭
㉧	⑮	⑯

- ① 福岡県
- ② 福岡市
- ③ 佐賀県
- ④ 佐賀市
- ⑤ 長崎県
- ⑥ 長崎市
- ⑦ 大分県
- ⑧ 大分市
- ⑨ 熊本県
- ⑩ 熊本市
- ⑪ 宮崎県
- ⑫ 宮崎市
- ⑬ 鹿児島県
- ⑭ 鹿児島市
- ⑮ 沖縄県
- ⑯ 那覇市

九州地方は8県あり、県名と県庁所在地名が異なるのは、おきなわけん 沖縄県だけだね。



No. 4	中国・四国地方 (都道府県名)	年 組
		名前

/18問

次の地図を見て、㉑～㉗の県名と県庁所在地名をそれぞれ書きましょう。

地図



	県名	県庁所在地名
㉑	①	②
㉒	③	④
㉓	⑤	⑥
㉔	⑦	⑧
㉕	⑨	⑩
㉖	⑪	⑫
㉗	⑬	⑭
㉘	⑮	⑯
㉙	⑰	⑱

- ① 島根県
- ② 松江市
- ③ 鳥取県
- ④ 鳥取市
- ⑤ 山口県
- ⑥ 山口市
- ⑦ 広島県
- ⑧ 広島市
- ⑨ 岡山県
- ⑩ 岡山市
- ⑪ 愛媛県
- ⑫ 松山市
- ⑬ 香川県
- ⑭ 高松市
- ⑮ 高知県
- ⑯ 高知市
- ⑰ 徳島県
- ⑱ 徳島市

しゅうがくりょこう
修学旅行で行く県があるかな？

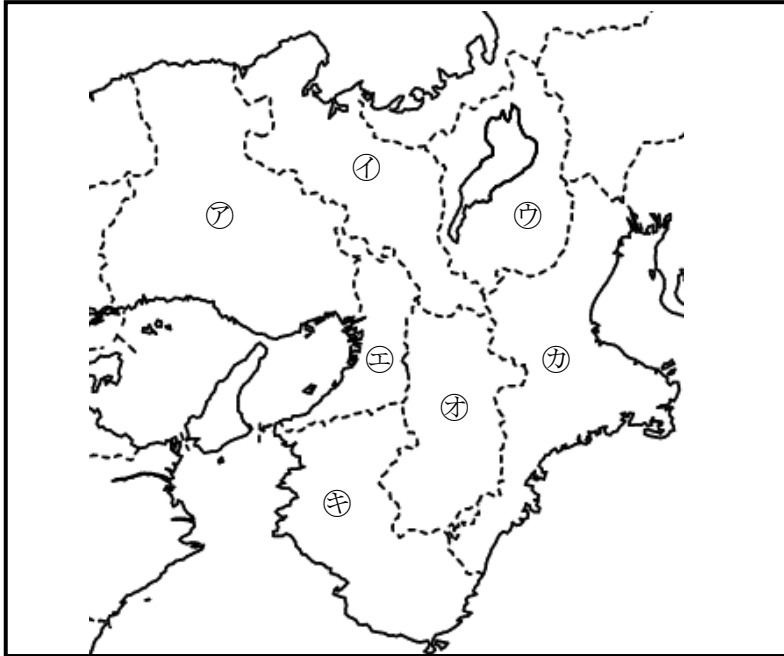


No. 6 近畿地方(都道府県名)	年 組
	名前

/14問

次の地図を見て、㊶～㊿の府県名と府県庁所在地名をそれぞれ書きましょう。

地図



	府県名	府県庁所在地名
㊶	①	②
㊷	③	④
㊸	⑤	⑥
㊹	⑦	⑧
㊺	⑨	⑩
㊻	⑪	⑫
㊼	⑬	⑭

- ① 兵庫県 ひょうごけん
- ② 神戸市 こうべし
- ③ 京都府 きょうとふ
- ④ 京都市 きょうとし
- ⑤ 滋賀県 しがけん
- ⑥ 大津市 おおつし
- ⑦ 大阪府 おおさかふ
- ⑧ 大阪市 おおさかし
- ⑨ 奈良県 ならけん
- ⑩ 奈良市 ならし
- ⑪ 三重県 みえけん
- ⑫ 津市 つし
- ⑬ 和歌山県 わかやまけん
- ⑭ 和歌山市 わかやまし

「府」がつく都道府県は、二つとも近畿地方にあるんだね。



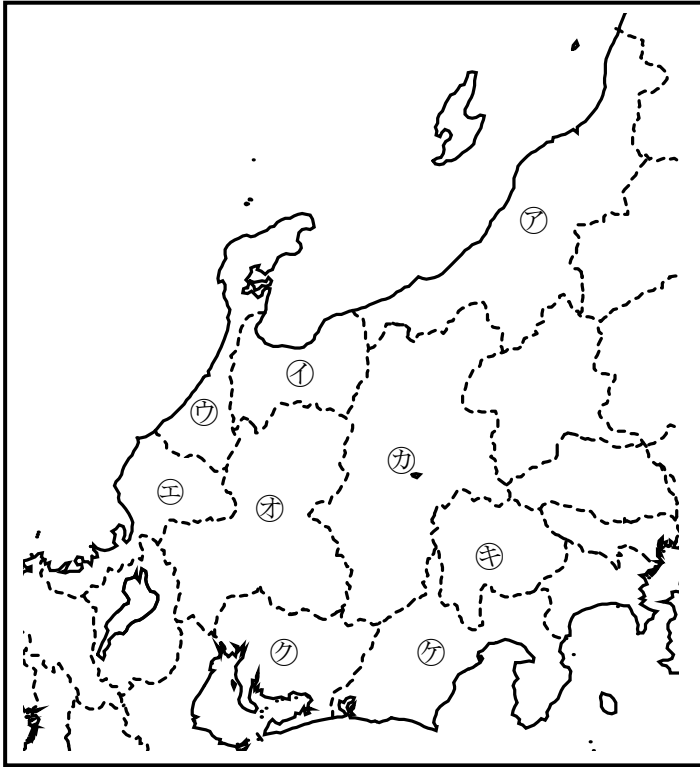
【解答】

No. 8 中部地方(都道府県名)	年 組
	名前

/18問

次の地図を見て、㊶～㊿の県名と県庁所在地名をそれぞれ書きましょう。

地図



	県名	県庁所在地名
㊶	①	②
㊷	③	④
㊸	⑤	⑥
㊹	⑦	⑧
㊺	⑨	⑩
㊻	⑪	⑫
㊼	⑬	⑭
㊽	⑮	⑯
㊾	⑰	⑱

- 【解答】
- ① 新潟県 にいがたけん
 - ② 新潟市 にいがたし
 - ③ 富山県 とやまけん
 - ④ 富山市 とやまし
 - ⑤ 石川県 いしかわけん
 - ⑥ 金沢市 かなざわし
 - ⑦ 福井県 ふくいけん
 - ⑧ 福井市 ふくいし
 - ⑨ 岐阜県 ぎふけん
 - ⑩ 岐阜市 ぎふし
 - ⑪ 長野県 ながのけん
 - ⑫ 長野市 ながのし
 - ⑬ 山梨県 やまなしけん
 - ⑭ 甲府市 こうふし
 - ⑮ 愛知県 あいちけん
 - ⑯ 名古屋市 なごやし
 - ⑰ 静岡県 しずおかけん
 - ⑱ 静岡市 しずおかし

ちゅうぶ ちほう
中部地方には、海に面していない県が
3県あるんだね。

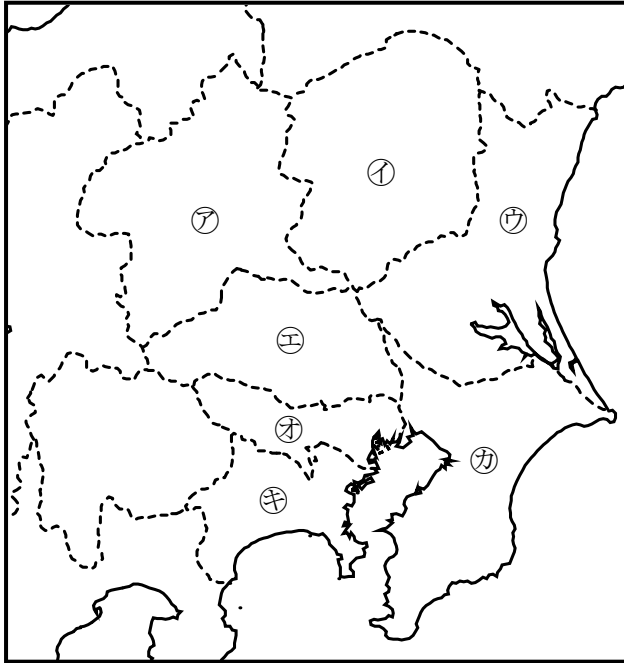


No.10 関東地方(都道府県名)	年 組
	名前

/14問

次の地図を見て、㊦～㊫の都県名と都県庁所在地名をそれぞれ書きましょう。

地図



	都県名	都県庁所在地名
㊦	①	②
㊧	③	④
㊨	⑤	⑥
㊩	⑦	⑧
㊪	⑨	⑩
㊫	⑪	⑫
㊬	⑬	⑭

- ① 群馬県
- ② 前橋市
- ③ 栃木県
- ④ 宇都宮市
- ⑤ 茨城県
- ⑥ 水戸市
- ⑦ 埼玉県
- ⑧ さいたま市
- ⑨ 東京都
- ⑩ 東京(23区)
- ⑪ 千葉県
- ⑫ 千葉市
- ⑬ 神奈川県
- ⑭ 横浜市

関東地方には、県庁所在地名に「ひらがな」が使われている市があるね。

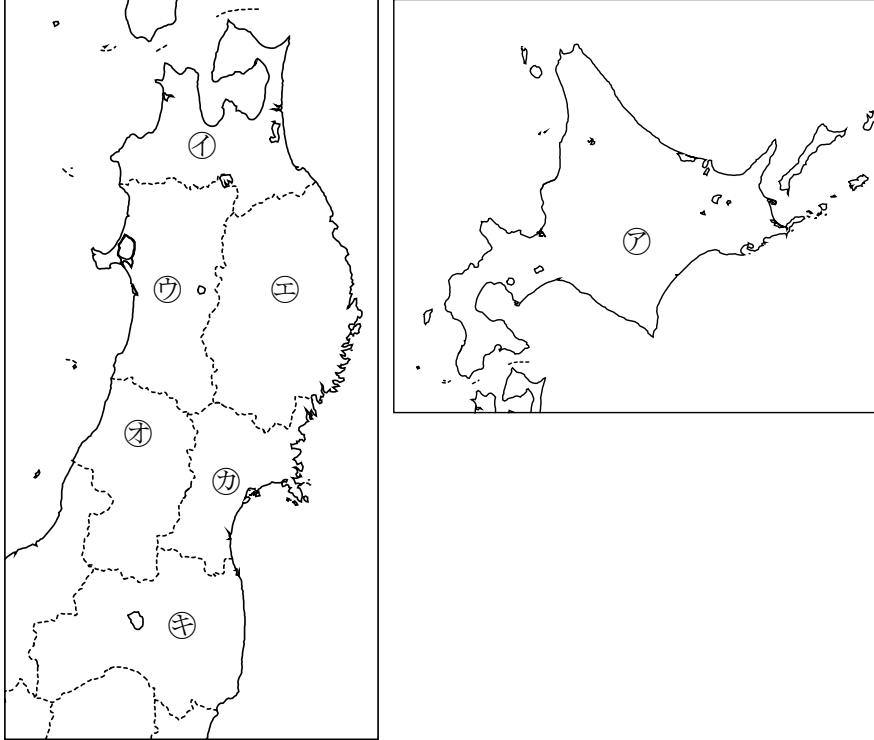


No.12 北海道地方・東北地方 (都道府県名)	年 組
	名前

/14問

次の地図を見て、㊶～㊿の道県名と道県庁所在地名をそれぞれ書きましょう。

地図



	道県名	道県庁所在地名
㊶	①	②
㊷	③	④
㊸	⑤	⑥
㊹	⑦	⑧
㊺	⑨	⑩
㊻	⑪	⑫
㊼	⑬	⑭

- ① 北海道
- ② 札幌市
- ③ 青森県
- ④ 青森市
- ⑤ 秋田県
- ⑥ 秋田市
- ⑦ 岩手県
- ⑧ 盛岡市
- ⑨ 山形県
- ⑩ 山形市
- ⑪ 宮城県
- ⑫ 仙台市
- ⑬ 福島県
- ⑭ 福島市

北海道地方・東北地方には、面積の広い都道府県ベスト3があるよ。



【解答】